

RESOLUCIÓN PROBLEMAS

1º PRIMARIA

Por: Laura Calatayud
y Mireia Guardado

Cuenta los helados y rodea el número correcto

21

13

15

Tania Torres Lara



En una floristería hay 278 flores. Si compro 23 flores ¿Cuántas flores quedan en la floristería?

Tania Torres Lara

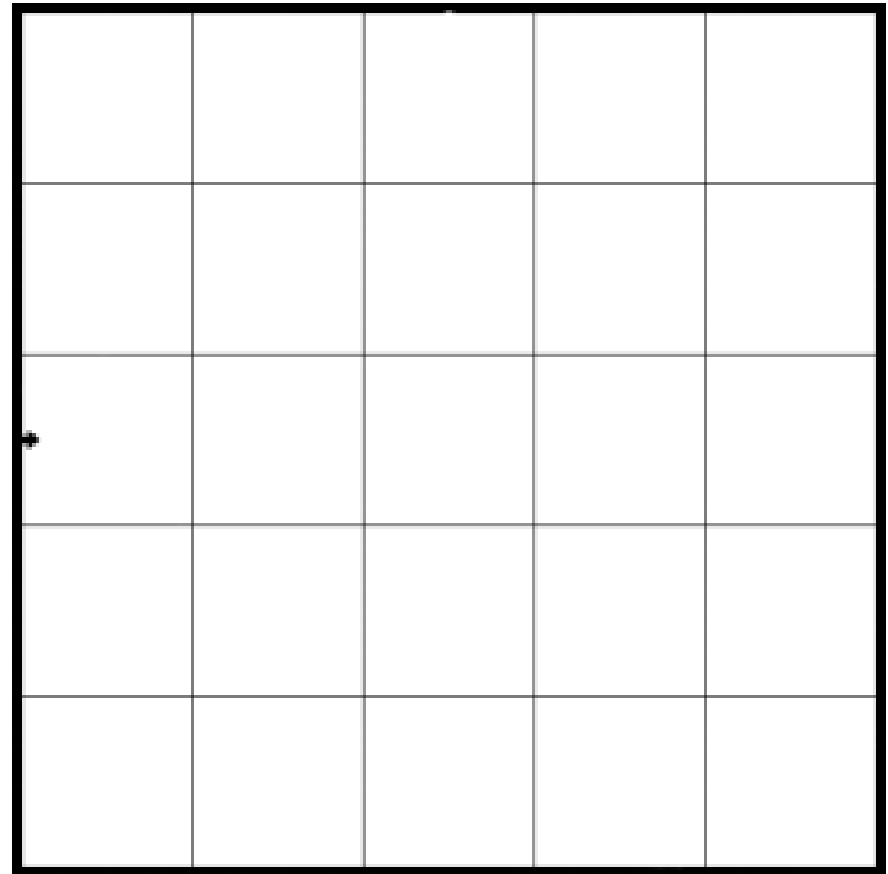

Datos:

Operación:

RESULTADO: _____

Observa el dibujo y cópialo:

Tania Torres Lara



¿Cuántos cuadrados ocupa el pulpo?

SOLUCIÓN: _____

En la plaza hay 23 palomas negras y 54 palomas grises ¿Cuántas palomas grises hay más que negras?

Tania Torres Lara

Datos:

Operación:

RESULTADO: _____

Estefanía ha abierto su hucha ¿Le ayudas a contar
cuanto dinero tiene?



Rodea los objetos que Estefanía puede comprar:

Tania Torres Lara



Para mi cumpleaños me regalan una caja de 20 bombones. Ese día me como 7 bombones ¿Cuántos bombones me quedan en la caja?

Tania Torres Lara

Datos:

Operación:

RESULTADO: _____

Observa lo que dice cada niña y niño:



Hola soy Lucía,
tengo 6 unidades
de balones

¿Cuántos balones tiene Lucía?

SOLUCIÓN: _____



Hola soy Alan, tengo
1 decena y 3
unidades de muñecas

¿Cuántas muñecas tiene Alan?

SOLUCIÓN: _____


Tania Torres Lara



Hola soy Pedro, tengo
6 decenas y 2
unidades de pulseras

¿Cuántas pulseras tiene Pedro?

SOLUCIÓN: _____



Hola soy Estefanía,
tengo 3 decenas y 5
unidades de tazas

¿Cuántas tazas tiene Estefanía?

SOLUCIÓN: _____

Tania Torres Lara

Lucía tiene 17 cromos. Le da un cromo a cada uno de sus 13 amigos y amigas ¿Cuántos cromos le quedan a Lucía?

Tania Torres Lara

Datos:

Operación:

RESULTADO: _____